



Figure 1




Figure 2



Figure 3



Figure 4



Figure 5



Figure 6

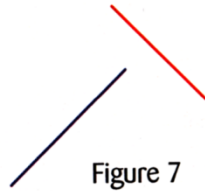


Figure 7



Figure 8



Figure 9

1°) Cite les figures pour lesquelles :

- La droite en bleu et la droite en rouge sont sécantes ;
- La droite en bleu et la droite en rouge semblent perpendiculaires ;
- La droite en bleu et la droite en rouge semblent parallèles.

2°) Dans la figure 1, peut-on affirmer que les droites sont perpendiculaires ? Pourquoi ?

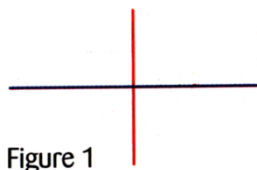


Figure 1




Figure 2



Figure 3



Figure 4



Figure 5



Figure 6

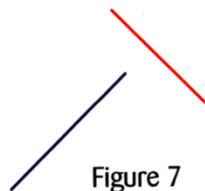


Figure 7



Figure 8



Figure 9

1°) Cite les figures pour lesquelles :

- La droite en bleu et la droite en rouge sont sécantes ;
- La droite en bleu et la droite en rouge semblent perpendiculaires ;
- La droite en bleu et la droite en rouge semblent parallèles.

2°) Dans la figure 1, peut-on affirmer que les droites sont perpendiculaires ? Pourquoi ?